

# 平成 27 年度 中学入試

## [ 前期 A 入試 ]

### 社会科 問題 (訂正版)

#### 注意事項

1. 試験開始の合図があるまで、この問題冊子の中を見てはいけません。
2. この問題冊子は、表紙を含めて 8 ページあります。  
  
試験中に、印刷がはっきりしなかったり、ページの乱れや抜け落ちに気づいたりした場合は、手を上げて監督者に知らせなさい。
3. 解答用紙は別に配布されます。解答はすべてその解答用紙に記入しなさい。
4. 問題冊子の余白等は下書きなどに利用してよろしいが、どのページも切り離してはいけません。

[ 前期 A 入試 ] 受験番号 \_\_\_\_\_

金蘭千里中学校

日本の自然について述べた次の文章を読んで、あとの問いに答えなさい。

ユーラシア大陸の東側に位置するわが国は、日本列島から南西諸島に弓なりにつながる島国で、国土の多くは山地である。山地は 中部地方の大きな溝（フォッサマグナ） を境に、東北日本は南北に、西南日本はほぼ東西に走っている。また、環太平洋 X の一部で、火山活動も活発である。

一方、周囲を海に囲まれており、いろいろな海岸がある。土地がしずんだり、海面が上がったりしてできた 三陸海岸、若狭湾や志摩半島 に見られるような Y 海岸や、海底が盛り上がった、海面が下がったりしてできた 海岸平野 などが見られる。

また、わが国は 季節風や近海を流れる海流 などの影響もあって、気候も [ 図 4 ] のように区分され、四季の変化に富んでいる。

( 1 ) 上の文章中の X ・ Y にあてはまる語句を答えなさい。

( 2 ) 下線部 について、中部地方は東北日本と西南日本の境界で、「大きな溝（フォッサマグナ）」になっていることを発見したのは、地質学者ハインリヒ=エドムント=ナウマンである。また、動物化石の新種の登録の時に、彼の名が付けられている。彼の名がつけられた動物は何か。次のア～オから1つ選び、記号で答えなさい。

ア．鹿      イ．象      ウ．<sup>わに</sup>鱈      エ．<sup>さめ</sup>鯨      オ．<sup>いのしし</sup>猪

( 3 ) 下線部 の3か所は、[ 図 1 ] のA～Fのうちどこか。その正しい組み合わせを、次のア～カから1つ選び、記号で答えなさい。

[ 図 1 ]



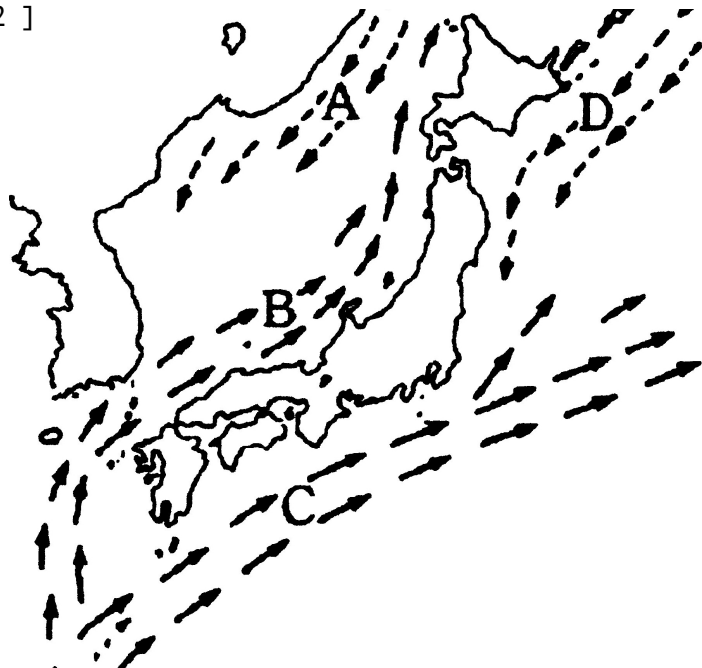
ア．A・B・C      イ．A・C・E      ウ．A・D・F  
エ．B・C・E      オ．B・D・E      カ．C・E・F

(4) 下線部 について、海岸平野の例ではないものを、次のア～エから1つ選び、記号で答えなさい。

ア．九十九里平野      イ．宮崎平野      ウ．越後平野      エ．広島平野

(5) 下線部 について、日本にやってくる季節風に、海流から多くの水分が供給され、日本列島にぶつかり大雪をもたらす。この海流を [ 図2 ] のA～Dから1つ選び、記号で答えなさい。また、その海流名を漢字で答えなさい。

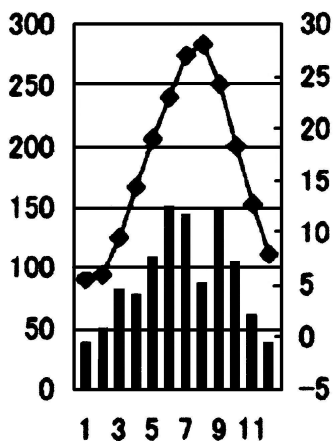
[ 図2 ]



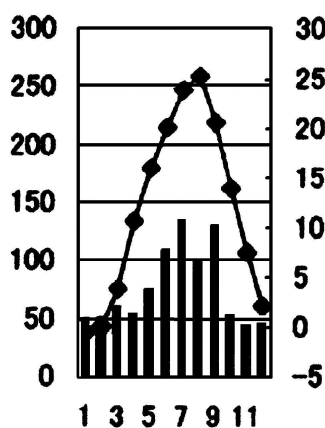
(6) [ 図3 ] の雨温図 ~ と、次のページの [ 図4 ] の気候区A～Fの正しい組み合わせを、あとのア～カから1つ選び、記号で答えなさい。

[ 図3 ]

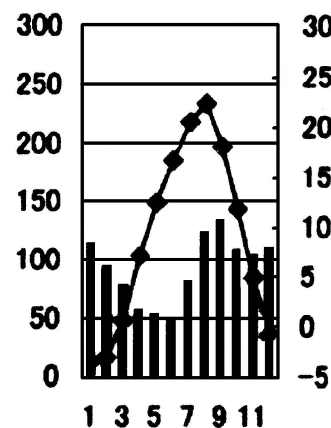
年平均気温 16.3  
年降水量 1082.3mm



年平均気温 11.9  
年降水量 932.7mm

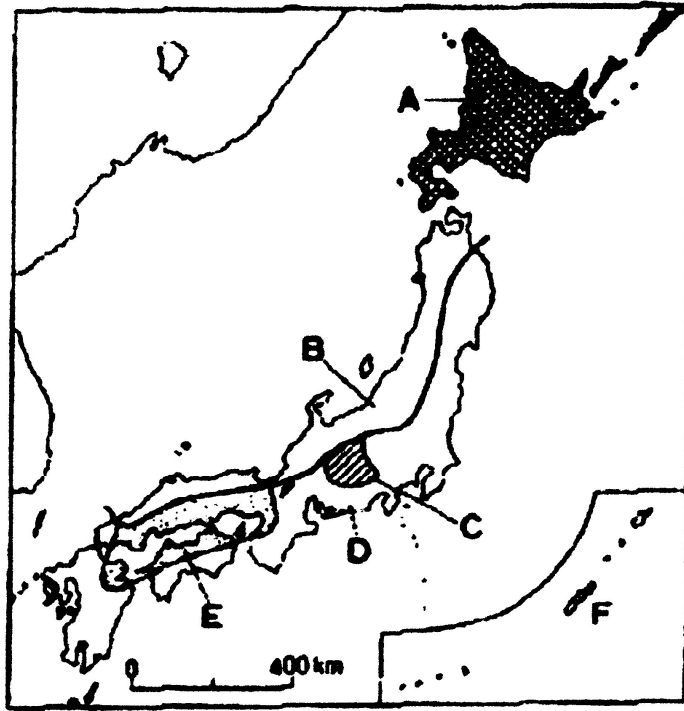


年平均気温 8.9  
年降水量 1106.5mm



(左目盛：mm、右目盛：℃、地理統計要覧2014により作成)

[ 図 4 ]



- ア. = A , = E , = C      イ. = B , = D , = C  
 ウ. = C , = A , = E      エ. = C , = B , = A  
 オ. = E , = C , = A      カ. = D , = A , = B

2015 年、金蘭千里中学校は創立 50 周年を迎える。「50」という数字に関するあとの問いに答えなさい。

( 1 ) 西暦 50 年は、日本において何時代になるか。次のア～エから 1 つ選び、記号で答えなさい。

- ア. 縄文時代      イ. 弥生時代      ウ. 古墳時代      エ. 奈良時代

( 2 ) アメリカ合衆国の 50 番目の州はハワイ州である。ハワイに関する次の文の (      ) に入る語句を漢字 3 字で答えなさい。

1941 年、日本はハワイの (      ) にあるアメリカの海軍基地を攻撃し、太平洋戦争が始まった。

( 3 ) 次の各文の (      ) に入る数字をすべて足すと 50 になる。( A ) と ( B ) にそれぞれ数字を入れなさい。

- ・聖徳太子は、冠位 (      ) 階を定め、家柄いえがらに関係なく能力のある豪族を取り立てるしくみをつくった。
- ・日本が政治のしくみや文化など多くを見習ってきた唐が、( A ) 世紀に滅ほろんだ。
- ・足利義政は、室町幕府の (      ) 代将軍である。
- ・明治政府は、近代的な軍隊をもつために徴兵令を出し、( B ) 歳になった男子に 3 年間軍隊に入ることを義務付けた。

(4) 次の人物が50歳のときに起こった出来事について、以下の問いに答えなさい。なお、年齢はすべて数え年(生まれた年を1歳とし、以後正月になると1歳を加える)で数えている。

藤原不比等(659年生まれ)が50歳のときの出来事として正しいものを、次のア～エから1つ選び、記号で答えなさい。

ア. 都が藤原京に移された。

イ. 東大寺の大仏が完成した。

ウ. 国ごとに国分寺を建てる詔が出された。

エ. 和同開珎がつくられた。

平清盛(1118年生まれ)が50歳のときに、武士として初めてついた地位を、漢字で答えなさい。

北条泰時(1183年生まれ)が50歳のときに定めた法令の説明として正しいものを、次のア～エから1つ選び、記号で答えなさい。

ア. この法令は、武士の裁判の基準を示している。

イ. この法令は、弘安の役の後に制定された。

ウ. この法令で、参勤交代が制度として定められた。

エ. この法令に危機感を持った朝廷が幕府に兵を挙げた。

雪舟(1420年生まれ)は50歳のときに、水墨画を学んだ中国から帰国した。このときの中国の王朝として正しいものを、次のア～エから1つ選び、記号で答えなさい。

ア. 宋    イ. 元    ウ. 明    エ. 清

近松門左衛門(1653年生まれ)が50歳のときに忠臣蔵で有名な赤穂浪士の討ち入りが起こっている。このときの年号を漢字2字で答えなさい。なお、この年号は、文化の名称にも使われている。

小村寿太郎(1855年生まれ)が50歳のときに起こった日露戦争に関連した文A～Dについて、正しいものの組み合わせを、次のア～エから1つ選び、記号で答えなさい。

- |  |
|--|
| A. 日本は日露戦争の講和条約で、多額の賠償金を得た。              |
| B. 日本は日露戦争の講和条約で、南満州の鉄道の権利を得た。           |
| C. 日露戦争の後の三国干渉により、日本の朝鮮(大韓帝国)への影響力が低下した。 |
| D. 日露戦争の後、日本は朝鮮(大韓帝国)への支配を強め、その後併合した。    |

ア. A・C    イ. A・D    ウ. B・C    エ. B・D

(5) 現在、金蘭千里中学校は「50周年学校改革」を行っている。歴史上の改革について、以下の問いに答えなさい。

古代の改革について述べた文A・Bの正誤の組み合わせとして正しいものを、次のア～エから1つ選び、記号で答えなさい。

- |   |
|---|
| A. 聖徳太子や蘇我入鹿は、すすんだ政治のしくみや文化を取り入れるため、中国に遣隋使を送った。 |
| B. 中大兄皇子や中臣鎌足は、天皇を中心とする国にするために、大宝律令を制定した。       |

ア. A = 正、B = 正    イ. A = 正、B = 誤

ウ. A = 誤、B = 正    エ. A = 誤、B = 誤

）江戸時代の改革に関することから A～C の年代順として正しいものを、次のア～カから 1 つ選び、記号で答えなさい。

- A . 飢饉<sup>まきん</sup>に備えて諸藩に米を蓄<sup>たくわ</sup>えさせたり、役人に朱子学以外の学問を禁じたりした。  
 B . 質素<sup>けんじやく</sup>儉約をすすめたり、目安箱を設け、庶民<sup>しよみん</sup>の意見を聞いたりした。  
 C . 株仲間を禁止したり、江戸に出てきた農民を村に返す政策を行ったりした。

- ア . A B C      イ . A C B      ウ . B A C  
 エ . B C A      オ . C A B      カ . C B A

）明治政府は国の収入を安定させるために税のしくみを改め、土地の価格の 3 % を現金で納めさせることとした。この改革のことを漢字 4 字で答えなさい。

東京の都心を示した下の地図を見て、あとの問いに答えなさい。



( 国土地理院 1/25000 をもとに作成 )

( 1 ) 東京は日本国の首都である。「国 - 首都」の名称の組み合わせとして正しいものを、次のア～キから 2 つ選び、記号で答えなさい。

- ア . 南アフリカ共和国      - ヨハネスバーグ  
 イ . ブラジル共和国      - リオデジャネイロ  
 ウ . アメリカ合衆国      - ニューヨーク  
 エ . イタリア共和国      - ローマ  
 オ . オーストラリア      - シドニー  
 カ . 中華人民共和国      - ホンコン  
 キ . 大韓民国              - ソウル

( 2 ) A は東京都庁である。現在の東京都の人口は、大阪府の何倍か。正しいものを、次のア～エから 1 つ選び、記号で答えなさい。

- ア . 約 1.0 倍      イ . 約 1.5 倍      ウ . 約 2.0 倍      エ . 約 2.5 倍

- ( 3 ) B は国立競技場で、1964 年の東京オリンピックのメイン会場であった。次の東京オリンピック・パラリンピックは何年に開催される予定か。西暦で答えなさい。
- ( 4 ) C は国立公文書館で、日本国憲法の原本を保管している。この憲法の公布年月日を西暦で答えなさい。
- ( 5 ) D は皇居で、天皇皇后両陛下のお住まいである。日本国憲法は、天皇の地位を何と明記しているか。正しいものを次のア～エから 1 つ選び、記号で答えなさい。  
ア．日本国と日本国民統合の象徴  
イ．日本国民の頂点に立つ国父  
ウ．立法・行政・司法の三権の統括者  
エ．日本国を代表する国家元首
- ( 6 ) E は最高裁判所である。最高裁判所の裁判官の人数を答えなさい。
- ( 7 ) F は国会議事堂である。国会の仕事として正しいものを、次のア～エから 1 つ選び、記号で答えなさい。  
ア．法律や条約を制定・改正したり、廃止したりする。  
イ．内閣総理大臣を指名したり、予算を作ったりする。  
ウ．裁判官を任命したり、辞めさせたりする。  
エ．天皇に対して助言を行ったり、承認を与えたりする。
- ( 8 ) G は霞が関で、この周辺には多くの省庁が集中している。次のア～キから、現在ある国の省庁を 2 つ選び、記号で答えなさい。  
ア．通商産業省      イ．建設省      ウ．環境省      エ．大蔵省  
オ．経済企画庁      カ．復興庁      キ．警視庁

【問題は以上で終わりです】





(1)	X		Y	海岸	
(2)		(3)	(4)		
(5)	記号		海流		(6)

(1)		(2)	.....	(3)	A	B
(4)	i)	ii)	.....		iii)	
	iv)	v)	.....	vi)		
(5)	i)	ii)	iii)	.....	.....	.....

(1)		(2)	
(3)	年	(4)	年 月 日
(5)	(6)	人	
(7)	(8)		

受験番号		得点	
------	--	----	--

(1)	X	造山帯	Y	リアス	海岸	
(2)		イ	(3)	才	(4)	工
(5)	記号	B	対馬	海流	(6)	才

( 1 ) 各 2 点 , ( 2 ) ~ ( 4 ) 各 3 点 , ( 5 ) 完答 4 点 , ( 6 ) 3 点

(1)		イ	(2)	真 珠 湾	(3)	A	10	B	20
(4)	i)	工	ii)	太政大臣	iii)	ア			
	iv)	ウ	v)	元 禄	vi)	工			
(5)	i)	工	ii)	ウ	iii)	地 租 改 正			

( 1 ) 2 点 , ( 2 ) 1 点 , ( 3 ) 完答 2 点 ,  
 ( 4 ) ) 2 点 , ) 1 点 , ) ) 各 2 点 , ) 1 点 , ) 2 点 ,  
 ( 5 ) ) ) 各 2 点 , ) 1 点

(1)	工	キ	(2)	イ					
(3)	2020	年	(4)	1946	年	11	月	3	日
(5)	ア	(6)	15	人					
(7)	イ	(8)	ウ	カ					

( 1 ) 2 点 × 2 , ( 2 ) ( 3 ) 各 2 点 , ( 4 ) 完答 2 点 , ( 5 ) ~ ( 7 ) 各 2 点 , ( 8 ) 2 点 × 2

受 験 番 号		得 点	
------------------	--	--------	--